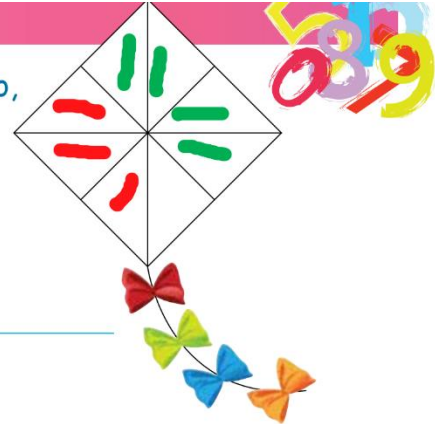


Σελίδες 83 και 84 του βιβλίου των Μαθηματικών σου.

17. (α) Να χρωματίσεις $\frac{4}{8}$ του χαρταετού με πράσινο, $\frac{3}{8}$ με κόκκινο και το υπόλοιπο με κίτρινο.

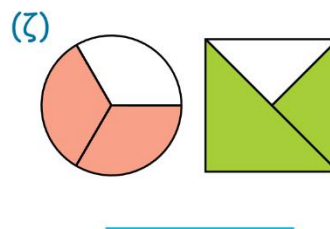
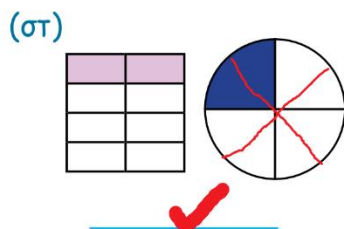
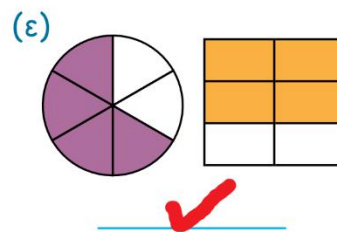
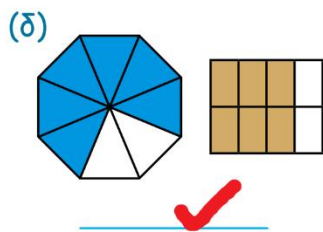
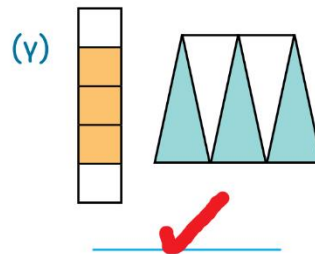
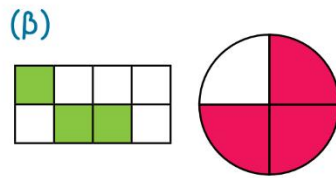
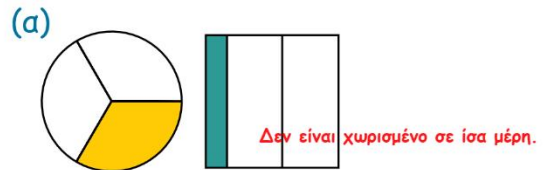
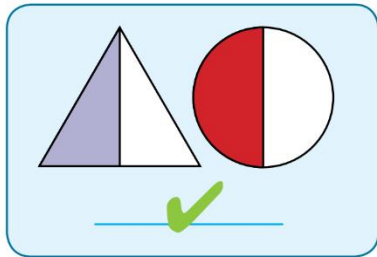


(β) Τι μέρος του χαρταετού είναι κίτρινο;


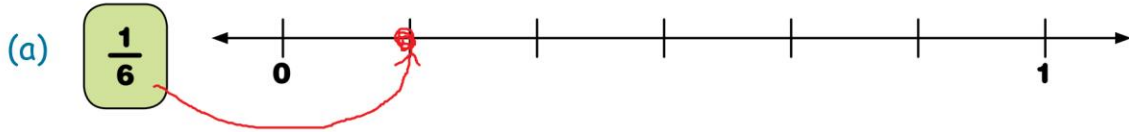
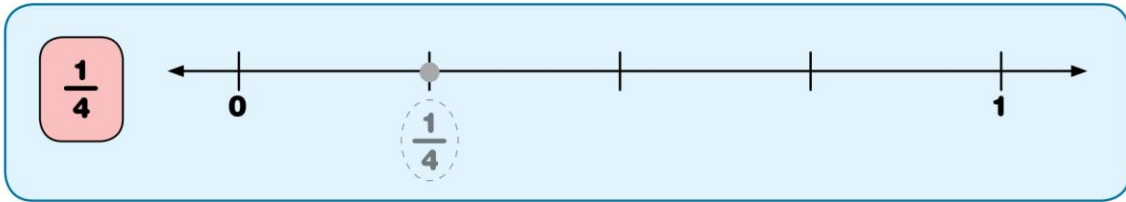
Είναι χρωματισμένο με κίτρινο το $\frac{1}{8}$ του χαρταετού.

8

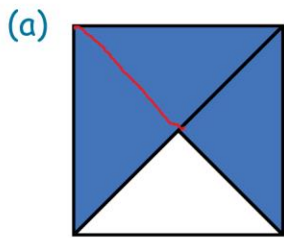
18. Ποιες εικόνες δείχνουν το ίδιο κλάσμα;



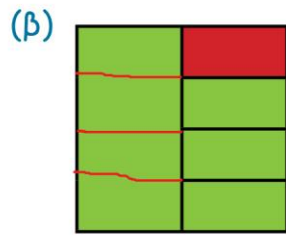
19. Να σημειώσεις στην αριθμητική γραμμή τη θέση του αριθμού, όπως στο παράδειγμα.



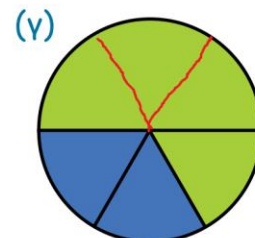
20. Να γράψεις τι μέρος της συνολικής επιφάνειας δείχνει το κάθε χρώμα.



μπλε $\frac{3}{4}$
 άσπρο $\frac{1}{4}$



πράσινο $\frac{7}{8}$
 κόκκινο $\frac{1}{8}$



πράσινο $\frac{4}{6}$
 μπλε $\frac{2}{6}$

