

27 Ιανουαρίου 2021

Συμπλήρωσε τις σελίδες 83 και 84 του βιβλίου των Μαθηματικών σου.

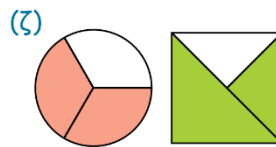
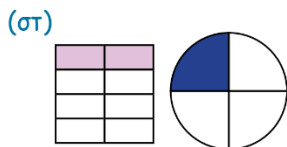
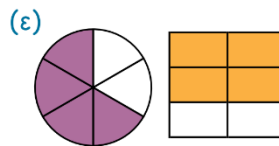
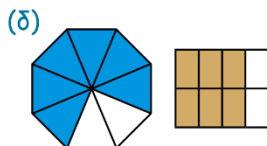
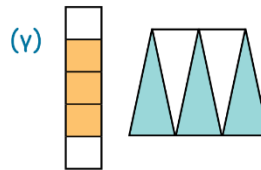
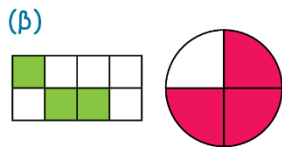
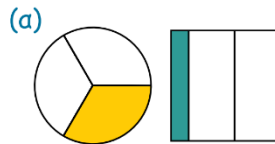
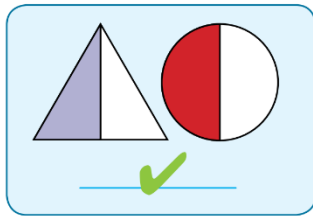
17. (α) Να χρωματίσεις $\frac{4}{8}$ του χαρταετού με πράσινο, $\frac{3}{8}$ με κόκκινο και το υπόλοιπο με κίτρινο.



Η απάντηση πρέπει να είναι σε κλάσμα.

(β) Τι μέρος του χαρταετού είναι κίτρινο;


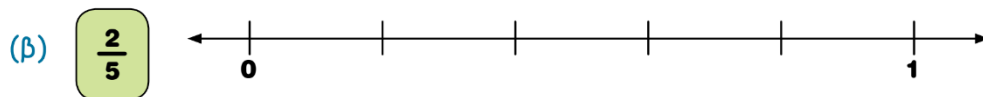
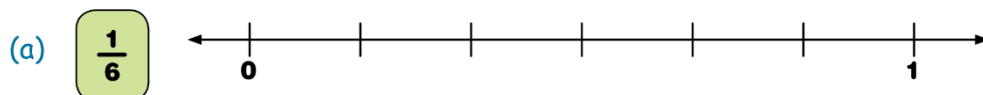
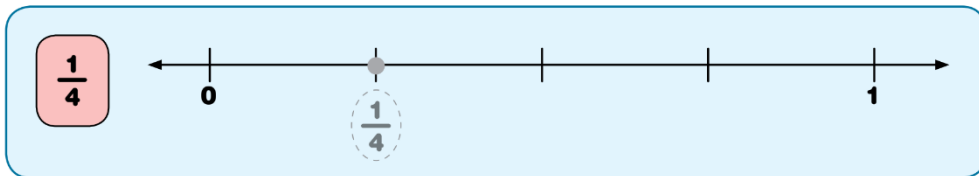
18. Ποιες εικόνες δείχνουν το ίδιο κλάσμα;



Πρέπει να ισχύουν:

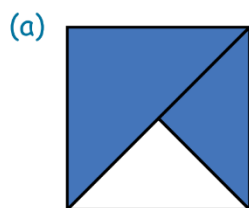
Το κάθε σχήμα να είναι χωρισμένο σε ίσα μέρη.

19. Να σημειώσεις στην αριθμητική γραμμή τη θέση του αριθμού, όπως στο παράδειγμα.

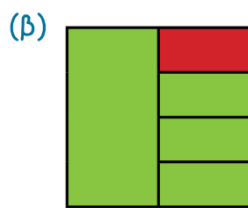


Σύμφωνα με το κλάσμα, η απόσταση πρέπει να είναι χωρισμένη σε δύο ίσα μέρη.

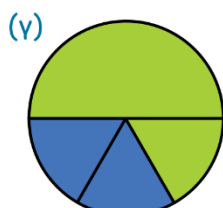
20. Να γράψεις τι μέρος της συνολικής επιφάνειας δείχνει το κάθε χρώμα.



μπλε $\frac{\quad}{\quad}$
 άσπρο $\frac{\quad}{\quad}$



πράσινο $\frac{\quad}{\quad}$
 κόκκινο $\frac{\quad}{\quad}$



πράσινο $\frac{\quad}{\quad}$
 μπλε $\frac{\quad}{\quad}$