

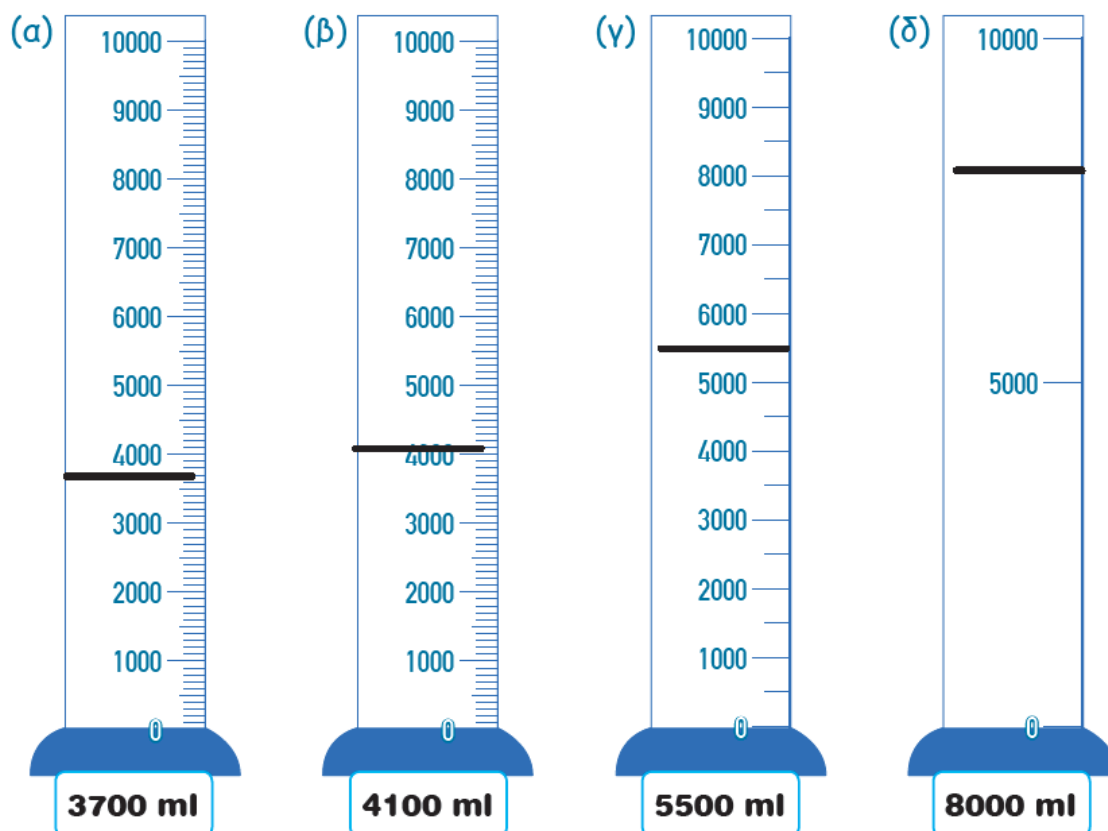
Λύσεις Μαθηματικών 5/2/21:

Σελίδες 50, 51(ασκ.6), 54

4. Να αντιστοιχίσεις, όπως στο παράδειγμα.

4102	χίλια πεντακόσια σαράντα δύο
7963	τέσσερις χιλιάδες δώδεκα
7693	εφτά χιλιάδες εξακόσια ενενήντα τρία
1524	τέσσερις χιλιάδες εκατόν δύο
1542	εφτά χιλιάδες εννιακόσια εξήντα τρία
4012	χίλια πεντακόσια είκοσι τέσσερα

5. Να σημειώσεις το σημείο της στάθμης του υγρού σε κάθε σωλήνα.



Σελίδα 51

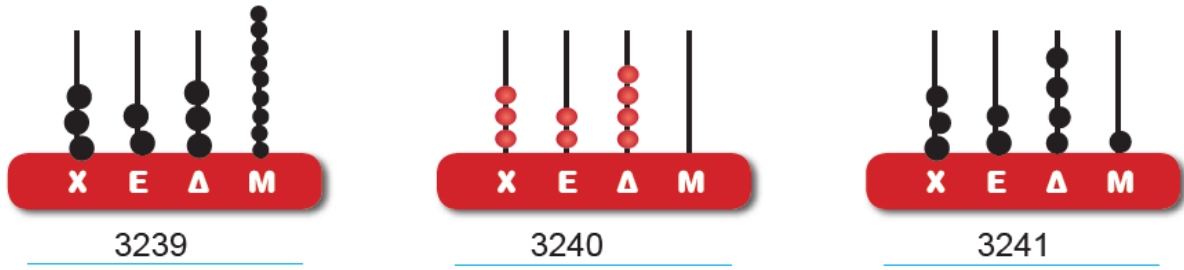
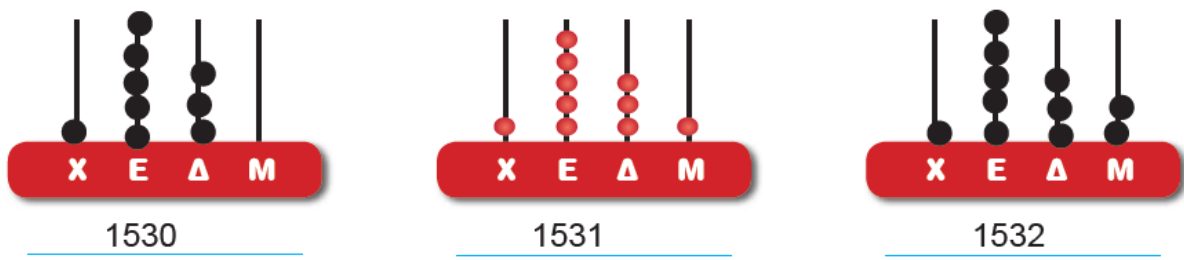
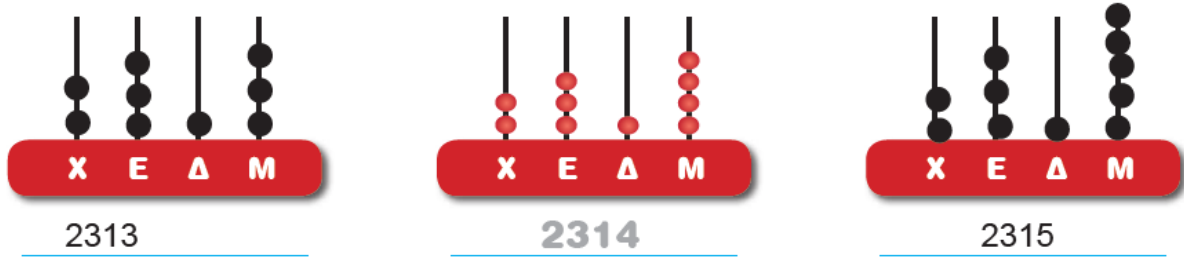
6. Να γράψεις τους αριθμούς στην κατάλληλη θέση στον πιο κάτω πίνακα.



9 421 3697 5334 72 9901 9578

	Άρτιος	Περιττός
Τετραψήφιος αριθμός	5334, 9578	9901, 3697
Μη τετραψήφιος αριθμός	72	9, 421

11. Σε κάθε σειρά το μεσαίο αριθμητήριο δείχνει έναν τετραψήφιο αριθμό. Να σχηματίσεις και να γράψεις τον προηγούμενο και τον επόμενο αριθμό.



12. Να γράψεις τους αριθμούς σε σειρά, αρχίζοντας από τον μικρότερο.

